

Семинка
Миша

66.

Предварительный тур Олимпиады по истории Отечества
10 класс

Ф.И. _____

1. Какой из русских городов был основан в XVIII?

- А) Тобольск
Б) Белгород
В) Ростов - на - Дону
Г) Царицин

2,5

Всего 1 б. 2,5

2. В битве на реке Калке участвовали

- А) Биргер, Александр Ярославич, Гаврило Олексич, Сбыслав Якунович
Б) Мстислав Удалой, Даниил Романович, Субедей, Котян
В) Дмитрий Иванович Московский, Владимир Андреевич Серпуховский, Мамай, Дмитрий Михайлович Боброк-Волынский
Г) Витовт, Ягайло, Темир-Кутлуг, Едигей

2,5

Всего 1 б. 2,5

3. О каком событии говорится в отрывке?

«... Когда взошло солнце, не менее пятисот тысяч человек занимали сравнительно небольшое пространство, и проталкиваясь вперед, напирали на сотню растерявшихся казаков... В одну секунду казаки были сметены и толпа бросилась вперед... Все они попадали в ямы, друг на друга, женщины, прижимая к груди детей, мужчины, отбиваясь и ругаясь...»

- А) стачка иваново-вознесенских рабочих
Б) бои на Красной Пресне
В) катастрофа на Ходынском поле
Г) «Кровавое воскресенье»

2,5

Всего 1 б. 2,5

4. Какие мероприятия относятся к экономической и социальной политике советской власти в ноябре 1917- начале 1918 гг.?

- А) национализация банков
Б) создание концессий с участием иностранного капитала
В) проведение в Петрограде Всероссийского демократического совещания
Г) создание Высшего совета народного хозяйства (ВСНХ)
Д) введение трудовой повинности
Е) принятие Декрета о гражданском браке и семье

Всего 3 б. 3,5

5. Краткая редакция Русской Правды включает в себя:

- А) Правду Ярослава
Б) Правду Ярославичей
В) Церковный устав Владимира
Г) «Устав о резах и закупах»
Д) «Поучение» Мономаха

Всего 2 б. 2,5

6. Восстановите хронологическую последовательность:

- А) основание Риги крестоносцами
Б) избрание нойона Темучина Чингисханом
В) взятие ханом Батыем Киева
Г) поход новгород-северского князя Игоря в половецкую степь
Д) восстание в Твери против баскаков

Ответ: ГБАДВ

Всего 2 б. 2,5

7. Расположите в хронологической последовательности:

- А. Год «великого перелома».
Б. Кризис хлебозаготовок.
В. Введение паспортной системы.
Г. X съезд РКП(б)
Д. Статья И.В.Сталина «Головокружение от успехов».

Ответ: ГБАДВ

Всего: 2 б. 2,5

8. Соотнесите дату и событие, либо мероприятие

- А) 1598 г.
Б) 1589 г.

158

- В) 1550 г.
- Г) 1569-1570 гг.
- Д) 1581 г.
- Е) 1582 г.
- Ж) 1583 г.
- З) 1584 г.

1. Учреждение стрелецкого войска, вооруженного огнестрельным и холодным оружием
2. смерть Федора Иоанновича, прерывание династии Рюриковичей
3. учреждение патриаршества, избрание первым патриархом Иова
4. поход опричного войска на Новгород и Псков
5. Ям-Запольское перемирие с Речью Посполитой, передача ей Велижских земель
6. Плюсское перемирие со Швецией, передача ей Нарвы, Дерпта, Водьской земли с Ивангородом, Ямом и Копорьем
7. начало Сибирского похода Ермака Тимофеевича
8. смерть Ивана Грозного

Ответ: А - 2; Б - 3; В - 1; Г - 4; Д - 7; Е - 5; Ж - 6; З - 8.

Всего 8 б. $25 \times 8 = 16$.

9. По какому принципу образованы ряды?

- А) Аристотель Фиораванти, Алевиз Новый, Доменико Трезини, Бартоломео Растрелли

Б) Галицийская операция, Саракамышская операция, Восточно-Прусская операция, Карпатская операция

- В) Россия, Дания, Саксония, Речь Посполитая

Всего 3 б. 3

10. По какому принципу образованы ряды? Что и почему является лишним?

- А) Филипп Нянька, Евпатий Коловрат, Петр Ослядюкович, Юрий Всеволодович

- Б) Четверть, вершок, аршин, штоф

- В) Ясский мирный договор, Бухарестский мирный договор, Гюлистанский мирный договор, Сан-Стефанский мирный договор

Документальный мирный договор подписан с Урашии, остальные с Турцией

Всего 6 б. 26

11. Прочитайте отрывок из исторического документа и ответьте на вопросы.

Лета 7106-го нсября в 24 день царь и великий князь Федор Иванович всеа Русии указал. Которые крестьяне из-за бояр, и из-за дворян, и из-за приказных людей, и из-за детей боярских, и из-за всяких людей, из поместий и из вотчин, из патриарховых, и из митрополичьих, и из владычных (высших иерархов церкви), и из монастырских вотчин выбежали до нынешнего 106-го году за пять лет, и на тех беглых крестьян в их побеге и по тех помещиков и вотчинников, за кем они, выбежав, живут, тем помещиком, из-за ково они выбежали, и патриаршим, и и митрополичьим, и владычным, и детем боярским, и монастырских сел приказщиком и служкам давати суд и сыскивати некрепко всякими сыски. А по суду и по сыску тех крестьян беглых з женами и з детьми и со всеми их животы возити их назад, где хто жил.

1. Как называется документ, из которого взят отрывок?
2. В годы правления какого царя он был создан?
3. О каком социальном процессе в документе идет речь?
4. Назовите основные причины этого социального процесса.

Ответ:

1) указ о пятилетнем сыске беглых крестьян

2) Федор Иванович

3) закрепощение крестьян


Всего 7 б. 66

12. Восстановите отрывок, вставив пропущенные слова

В октябре (название месяца) французы покинули Москву, но на их пути встала окрепшая и увеличившаяся численно русская армия. Поражения, нанесенные французам под Перелюком и Малоярославцем вынудили императора Наполеона повернуть войска на Смоленскую дорогу. Отступающего к западным границам врага преследовала русская армия и континентальные отряды. При переправе через реку Бережину французы потеряли 30 тыс. воинов. Сам император, бросив войска, бежал в Париж. На вопрос о том, где же армия, он был вынужден ответить «Армии больше нет».

Всего 8 б. 88


13. Подпишите фамилии и расположите лидеров коммунистической партии в том порядке, в котором они ее возглавляли.



А) Ю.В. Андропов

Б) К.У. Черненко

В) Н.С. Хрущев



Г) М.С. Горбачев


Д) У.В. Сталин

Е) Л.И. Брежнев

Ответ: 1 - Д; 2 - В; 3 - Е; 4 - А; 5 - Б; 6 - Г.

Всего 6 б. 66

14. Подпишите название памятников, изображенных на иллюстрациях, и поставьте цифру на карте рядом с городом, где они находятся.



1)



2)


56



3)



4)



5)



- 1) Медный всадник в Санкт-Петербурге (Петр I) +
- 2) Памятник основателям Киева на Днепре +
- 3) Памятник Тысячелетия Руси в Новгороде +
- 4) Памятник Мещеряку и Покорскому в Москве +
- 5) Памятник Александру Невскому в Пскове +

Всего 5 баллов 55

15. Историческое эссе

Темы эссе:

1. «Святослав не есть пример государя великого, ибо он славу побед уважал более государственного блага, и характером своим пленяя стихотворца, заслуживает укоризну историка» (Н.М. Карамзин)
2. «Княжение Дмитрия Донского принадлежит к самым несчастным и печальным эпохам многострадального русского народа» (Н.И. Костомаров).
3. «...Иван III принадлежит к числу весьма немногих государей, избираемых провидением решить недолго судьбу народов: он есть герой не только российский, но и всемирной истории» (Н.М. Карамзин).
4. В своих политических оценках Иван Грозный следовал несложным правилам. Только те начинания считались хорошими, которые укрепляли единодержавную власть.» (Р.Г. Скрынников).
5. «Смута завершилась победой средних социальных слоев над общественным верхом и низом. Они создали и поддержали новую государственную власть, защитницу своих интересов и представительницу национальной независимости». (А.Е. Пресняков).
6. «Нам остается ответить на вопрос, волновавший как современников, так и потомков: почему намерения верховников ограничить самодержавие потерпело неудачу., почему надорванные кондиции стали кульминацией в победе самодержавия? (Н.И. Павленко).
7. «Искусство классицизма сформировало новый тип героя — гражданина, патриота, человека, стойко переносящего все испытания судьбы» (Ю.С. Рябцев).
8. «Мы сдались не перед внешними силами Западного союза, а перед нашим внутренним бессилием» (Ю.Ф. Самарин о Крымской войне)
9. «Находились ли они, союзники [страны Антанты], в состоянии войны с Советской Россией? Конечно нет. Но... (У. Черчилль).
10. «В составе послесталинского руководства не было ни одного деятеля, который решился бы выступить с докладом о культе личности. Хрущев, и только Хрущев, на мой взгляд, мог сделать это. (Ф.Бурлацкий)